

1 – 4 klasės

1. PANAGRINĖKITE NUOTRAUKAS IR PALYGINKITE MIESTO IR KAIMO POŽYMIUS. ATSAKYKITE Į TOLIAU PATEIKIAMUS KLAUSIMUS (13 taškų).



Miestas



Kaimas

Lentelėje pateikti miesto ir kaimo požymiai. Kiekvieną požymį priskirkite miestui arba kaimui, prie teiginio pažymėdami × ženklą (žr. pavyzdį). Lentelėje tuščiose eilutėse įrašykite nepaminėtus požymius.

Požymiai	Miestas	Kaimas
<i>Pvz., Gyvena keli šimtai gyventojų.</i>		×
Stovi daug daugiaaukščių pastatų.		
Žmonės verčiasi žemės ūkiu.		
Daug kelių.		
Auginama įvairių gyvulių: karvių, avių, ožkų ir kt.		
Daug prekybos ir pramogų centrų, muziejų, teatrų.		
Mažai pramogų.		

2. Palyginkite, kuo gyvenimas mieste ir kaime panašus ir kuo skiriasi (4 taškai).

Miesto ir kaimo panašumai

1.

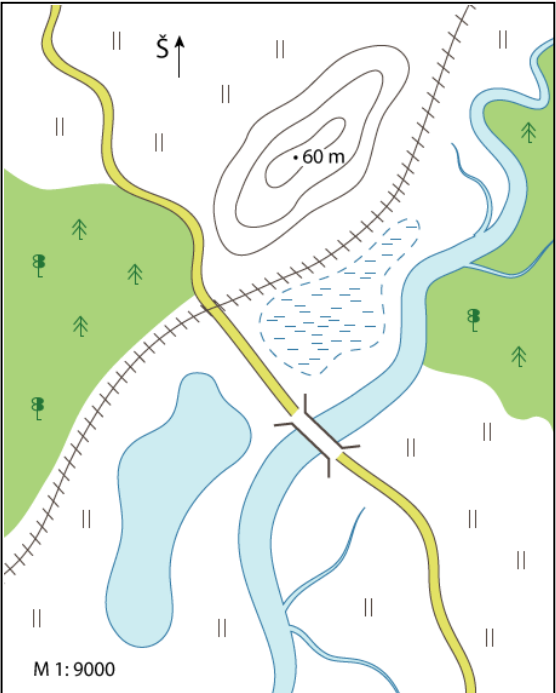
2.

Miesto ir kaimo skirtumai

1.

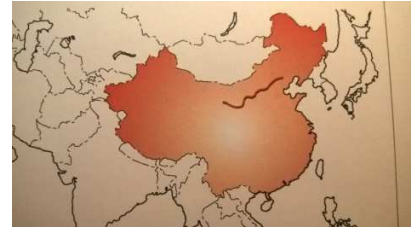
2.

3. Legendoje pagal pateikiamus objektų pavadinimus nupieškite juos atitinkančius sutartinius ženklus (8 taškai).

	<p style="text-align: center;">Sutartiniai ženklai</p> <p>Miškas</p> <p>Kalva</p> <p>Geležinkelis</p> <p>Pelkė</p> <p>Pieva</p> <p>Kelias</p> <p>Upė</p> <p>Ežeras</p>
--	---

4. ATPAŽINKITE ISTORINIUS OBJEKTUS (10 TAŠKŲ)

A. Objektas yra 7193 km. Ilgio. Statė mažiausiai 300 000 vyrų. Aukštis nuo 5 iki 10 m. Statinys nusėtas bokštais, iš kurių sargybiniai siųsdavo dūmų signalus apie artėjantį pavojų. Koks tai istorinis objektas ir kur jis yra? (2 taškai)




Atsakymas.....

B. Šis, itin sudėtingą konstrukciją turintis , statinys buvo pastatytas trumpiau negu per metus. Jį statė 250 žmonių. Sveria daugiau kaip 10 668 tonas. Aukštis 293 m. Koks tai istorinis objektas ir kur jis yra? (2 taškai)



Atsakymas.....

C. Objekto aukštis 136.5 m. Pastatyta iš 2 500 000 akmenų luitų, kurių kiekvienas sveria po tris tonas. Jėjimą 1818 m. atrado italų tyrinėtojas Giovanni Belzoni. Koks tai istorinis objektas ir kur jis yra? (2 taškai)



Atsakymas.....

D. Statulos platforma žvaigždės formos, pagrindas mozaikinis. Ji yra 100 m. aukščio. Suprojektavo Richardas Morrisas Huntas. Nuo 1886 m. sveikindavo atlinguojančius su imigrantais laivus ir visoms tautoms tapo laisvės simboliu. Koks tai istorinis objektas ir kur jis yra? (2 taškai)



Atsakymas.....

E. Objektas pradėtas statyti 1173 m. užbaigtas 1350m. 55 m . aukščio. Stovi žaliaje Campo dei Miracolio aikštėje. Statybų pradžioje ėmė svirti. Koks tai istorinis objektas ir kur jis yra? (2 taškai)



Atsakymas.....

5. ATSAKYKITE Į KLAUSIMUS (2 TAŠKAI)

1. Kuris gėrimas turi daugiausiai augimui reikalingų medžiagų?

Atsakymas.....

2. Kas yra vegetaras?

Atsakymas.....